


Testbogen Juniorabzeichen

THEORIE

1. Wähle den Schlüssel deines Instrumentes und benenne die Töne!



a¹ h fis¹ g²



A H₁ fis G









4

2. Wie heißen folgende Zeichen und was bewirken sie? (Ordne zu!)

- | | | |
|---------------------|----------------------------|---|
| A # | B B | C Macht Halbtonveränderung wieder rückgängig |
| B b | C Auflösungszeichen | A Der Ton wird einen Halbton höher |
| C \natural | A Kreuz | B Der Ton wird einen Halbton tiefer |

6

3. Ordne die Begriffe den Notenwerten und Pausenzeichen zu!

- | | | |
|-----------------------------------|--|--|
| A Ganze Note/Ganze Pause | B  | D  |
| B Halbe Note/Halbe Pause | A  | C  |
| C Achtelnote/Achtelpause | D  | B  |
| D Viertelnote/Viertelpause | C  | A  |

8

4. Die Verlängerung der Notenwerte – ordne zu!

- | | |
|--|--|
| A  | B  |
| B  | A  |


2

20


5. In jedem Takt fehlt ein Notenwert – ergänze bei x!




6. Wähle den Schlüssel deines Instrumentes und schreibe die Noten in der richtigen Reihenfolge von unten nach oben!




7. Ordne folgende Zeichen und Begriffe einander zu!



B Schlusstrich



C Taktstrich



A Wiederholungszeichen

8. Wie heißen folgende Zeichen und was bedeuten sie? (Ordne zu!)

A *f*

C mezzoforte

B leise spielen

B *p*

A forte

C halblaut/halbstark spielen



C *mf*

B piano

A laut/stark spielen

20	
3	
8	
3	
6	
40	

9. Ordne den Notenbeispielen die Begriffe und Bedeutungen zu!

A		B	staccato	A	gebunden spielen
B		A	legato	B	kurz spielen

40

4



GEHÖRBILDUNG

10. Welcher Rhythmus wurde gespielt? (Kreuze an!)

1	<input checked="" type="checkbox"/>		<input type="checkbox"/>	
2	<input type="checkbox"/>		<input checked="" type="checkbox"/>	
3	<input checked="" type="checkbox"/>		<input type="checkbox"/>	
4	<input type="checkbox"/>		<input checked="" type="checkbox"/>	

4

11. Wähle den Schlüssel deines Instrumentes und ergänze bei x den gehörten Ton!

x	x	x	x
			
x	x	x	x
			

4

Notenschlüssel Theorie/Gehörbildung:
 52 - 44 Punkte = Note 1
 43 - 35 Punkte = Note 2
 34 - 00 Punkte = Note 3

Note:

52